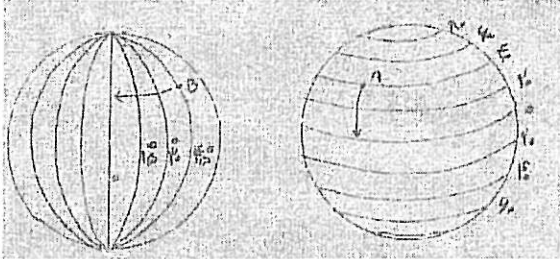


مدت امتحان: ۶۰ دقیقه	ساعت شروع: ۸ صبح	سوالات امتحان هماهنگ شهر تهران درس: مطالعات اجتماعی
صفحه ۱ از ۴	تاریخ امتحان: ۱۳۹۶/۰۳/۱۶	نام و نام خانوادگی:
اداره کل آموزش و پرورش شهر تهران		پایه نهم دوره اول متوسطه خرداد ماه ۱۳۹۶

ردیف	سوالات	بارم
------	--------	------

بخش اختیاری فصل اول تا آخر فصل ششم دانش آموز عزیز لطفاً در این بخش فقط دو فصل را انتخاب کنید و به سوالات همان دو فصل پاسخ دهید.

۰/۵	۱- کدام یک از سال‌های زیر روزهای بیشتری در تقویم دارد؟ الف) سال خورشیدی <input type="checkbox"/> ب) سال رسمی <input type="checkbox"/> ج) سال کبیسه <input type="checkbox"/> د) سال واقعی <input type="checkbox"/>
۱	۲- چگونه ممکن است اذان ظهر در شمال و جنوب ایران در دو شهر متفاوت، در یک زمان پخش شود؟
۱	۳- طول و عرض جغرافیایی نقاط را با توجه به شکل زیر بنویسید.  نقطه A: نقطه B:

فصل اول


۰/۵	۴- کدام یک از عوامل زیر، جزء عوامل طبیعی- بیرونی تغییر دهنده شکل ناهمواری‌هاست؟ الف) چین خوردگی <input type="checkbox"/> ب) هوا زدگی <input type="checkbox"/> ج) گسل‌ها <input type="checkbox"/> د) کوه‌های آتشفشانی <input type="checkbox"/>			
۱	۵- به نظر شما، برای حفاظت از اقیانوس‌ها، که یکی از منابع مهم تأمین غذای انسان است چه باید کرد؟ (دو راه حل پیشنهاد دهید). الف) ب)			
۱	۶- با توجه به کلمات داده شده، کلمه درست را در مقابل تعریف آن بنویسید. (یک مورد اضافه است). <table border="1" data-bbox="547 1361 1066 1429"> <tr> <td>فلات</td> <td>سنگ کره</td> <td>وردسپهر</td> </tr> </table> الف) بخش خارجی کره زمین که حالت جامد دارد: ب) هر چه از سطح زمین بالاتر می‌رویم دمای هوا در این لایه کم می‌شود:	فلات	سنگ کره	وردسپهر
فلات	سنگ کره	وردسپهر		

فصل دوم

۱	۷- برخی از طرفداران محیط زیست، استفاده از وسایل تزئینی که از عاج فیل ساخته می‌شود را تحریم کرده‌اند و آن‌ها را نمی‌خرند. یک دلیل بیاورید که کار آن‌ها درست است؟
---	--

فصل سوم

۱/۵	۸- سه گروه گردشگر می‌خواهند به سه زیست بوم متفاوت سفر کنند با توجه به توضیحات، هر یک از این گروه‌ها چه زیست بومی را انتخاب کرده‌اند؟ گروه اول: زیست بومی که پوشیده از یخ و برف است: گروه دوم: زیست بومی که دارای علفزار با درختان تک و منفرد است: گروه سوم: زیست بومی که دارای آب و هوای گرم و خشک و بارندگی بسیار کم است:
-----	---



سؤالات امتحان هماهنگ شهر تهران درس: مطالعات اجتماعی	ساعت شروع: ۸ صبح	مدت امتحان: ۶۰ دقیقه
نام و نام خانوادگی:	تاریخ امتحان: ۱۳۹۶/۰۳/۱۶	صفحه ۲ از ۴
پایه نهم دوره اول متوسطه خرداد ماه ۱۳۹۶		
اداره کل آموزش و پرورش شهر تهران		

ردیف	سؤالات	بارم
------	--------	------

۹- تفاوت میزان مولید و میزان مرگ و میر، رشد منفی جمعیت را نشان می‌دهد. درست نادرست ۰/۵

۱۰- جدول زیر را کامل کنید. ۱

گروههای مهاجر	اجباری یا اختیاری	داخلی یا خارجی
مهاجرت افراد از شهر به روستا		
مهاجرت مردم فلسطین به کشورهای همسایه		

فصل چهارم

۱۱- از بین عوامل نابرابری در جهان که در زیر آمده کدام یک جز عوامل داخلی و کدام یک از علل خارجی نابرابری است؟
 الف) استعمار:
 ب) فرهنگ و باورهای غلط:
 ج) اشغال نظامی:
 د) نداشتن پشتکار و اراده برای تغییر:

۱۲- من کیستم؟
 از صوفیان معروف زمان خود بودم که پیروان و طرفداران زیادی داشتم، خانقاهم در اردبیل مورد توجه مردم بود: ۰/۵

۱۳- چرا در عصر صفوی عالمان و اندیشمندان بزرگی پرورش یافته و آثار ارزشمند علمی و مذهبی بسیار نوشته شده است؟
 (یک دلیل بیاورید.) ۱

فصل پنجم

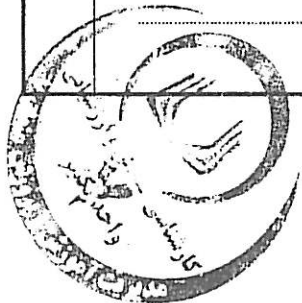
۱۴- با توجه به اقدامات سیاسی-اقتصادی شاه اسماعیل، شاه تهماسب و شاه عباس به نظر شما مردم ایران در دوره حکومت کدام یک از این شاهان شرایط بهتری داشتند؟ (یک دلیل بیاورید.) ۱

۱۵- عباس میرزا دستور داد کتاب‌هایی را در موضوع تاریخ کشورهای اروپایی به فارسی ترجمه کنند. درست نادرست ۰/۵

۱۶- کدام یک از شاهان زیر به صلح و آسایش و آرامش مردم اهمیت داده و از ناامنی و شورش‌های داخلی جلوگیری می‌کرد؟
 الف) نادر شاه افشار ب) کریم خان زند ج) لطفعلی خان زند د) آقا محمدخان قاجار ۰/۵

فصل ششم

۱۷- به سؤالات زیر در ارتباط با نهضت تنباکو پاسخ دهید:
 الف) این امتیاز در زمان سلطنت کدام شاه قاجار به تالوت واگذار شد؟
 ب) موارد امتیاز چه بود؟



مدت امتحان: ۶۰ دقیقه	ساعات شروع: ۸ صبح	سؤالات امتحان هماهنگ شهر تهران درس: مطالعات اجتماعی
صفحه ۳ از ۴	تاریخ امتحان: ۱۳۹۶/۰۳/۱۶	نام و نام خانوادگی:
اداره کل آموزش و پرورش شهر تهران	پایه نهم دوره اول متوسطه خرداد ماه ۱۳۹۶	
بارم	سؤالات	ردیف

بخش اجباری فصل هفتم تا دوازدهم دانش آموز عزیز لطفاً به همدی سؤالات از ۱۸ تا ۳۳ که شامل فصل هفتم تا دوازدهم می باشد، به طور کامل پاسخ دهید.

۱۸- کدام یک از موارد زیر از نتایج کودتای ۲۸ مرداد سال ۱۳۳۲ است؟

الف) سرنگونی احمد شاه ب) سرنگونی احمد شاه

ج) سرنگونی دولت مصدق د) روی کار آمدن محمدرضا شاه

۱۹- علت قیام ۱۹ دی ماه مردم قم، اعتراض به توهین به امام در روزنامه اطلاعات بود. درست نادرست

۲۰- هر یک از موارد زیر توسط کدام شاه قاجار روی داده است؟ (ارتباط دادنی)

الف) مظفرالدین شاه ب) محمدعلی شاه قاجار

۱) به توپ بستن مجلس ۲) امضای فرمان مشروطه

۳) تأیید نکردن قرارداد ۱۹۱۹

۲۱- طبق قرارداد ۱۹۰۷، انگلستان و روسیه ایران را میان خود تقسیم کردند. هدف این دو کشور استعمارگر از این اقدام چه بود؟

۲۲- گروه‌های ضد انقلاب داخلی با حمایت دشمنان خارجی، بر علیه انقلاب و مردم، چه اقداماتی انجام دادند؟ (یک مورد)

۲۳- آمریکا، دولت ایران را مجبور به قبول کاپیتولاسیون در دوره سلطنت محمدرضا شاه کرد.

الف) طبق این لایحه چه امتیازی به مأموران نظامی آمریکا داده شد؟

ب) چرا رژیم پهلوی پس از سخنرانی اعتراض آمیز امام نسبت به این لایحه، ایشان را تبعید کرد؟

۲۴- درستی یا نادرستی جملات زیر را مشخص کنید.

زبان گفتاری و نوشتاری ما، نقش هنجاری دارند. درست نادرست

فرهنگ نقش مهمی در افزایش بهره‌وری یک جامعه دارد. درست نادرست

گزینه درست را انتخاب کنید.

۲۵- کدام یک از موارد زیر نشانه داشتن تفکر بهره‌وری در محیط مدرسه است؟

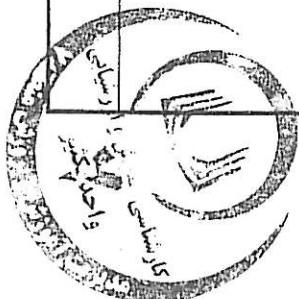
الف) نقاشی و کنده‌کاری بر روی میز و نیمکت‌های کلاس ب) روشن گذاشتن چراغ‌های کلاس در زنگ‌های تفریح

ج) روشن ماندن وسایل سرمایشی خارج از ساعات آموزشی د) بستن کامل و درست شیرهای آبخوری بعد از استفاده

۲۶- هدف از تولید از دیدگاه اسلام چیست؟

الف) کسب سود بیشتر ب) بهره‌وری از طبیعت

ج) رفع نیازهای ضروری د) افزایش سرمایه و ثروت



مدت امتحان: ۶۰ دقیقه	ساعت شروع: ۸ صبح	مطالعات اجتماعی
صفحه ۴ از ۴	تاریخ امتحان: ۱۳۹۶/۰۳/۱۶	نام و نام خانوادگی:
اداره کل آموزش و پرورش شهر تهران	پایه نهم دوره اول متوسطه خرداد ماه ۱۳۹۶	

ردیف	سوالات	بارم
------	--------	------

۰/۵	۲۷- جدول زیر را کامل کنید.	
۰/۵	۱- اطاعت از والدین تنها در صورتی جایز نیست که به و نافرمانی از خدا دستور دهند.	۱ ←
۰/۵	۲- از دیدگاه قرآن مهم‌ترین هدف ازدواج برقراری و محبت بین زن و مرد است.	۲ ←
۰/۵	۳- یکی از روش‌های اجتماعی کردن اعضای خانواده است.	۳ ←

۰/۵	۲۸- نمودار زیر را کامل کنید.	
۰/۵	مهم‌ترین رکن حکومت	← بر پایه
۰/۵	جمهوری اسلامی ایران	
۰/۵	مهم‌ترین وظایف	

۱	۲۹- شما به عنوان یک دانش‌آموز پایه نهم دارای مجموعه‌ای از ویژگی‌ها و خصوصیات اخلاقی و جسمانی هستید. الف) یک ویژگی اکتسابی، هویت اجتماعی خود را بنویسید. ب) یک ویژگی از هویت فردی- اخلاقی و روانی خود را بنویسید.	
---	--	--

۱	۳۰- در بعضی مواقع والدین و فرزندان نوجوانشان انتظارات یکدیگر را برآورده نمی‌کنند. شما چه پیشنهادی برای رفع این مشکل دارید؟ (یک مورد)	
---	--	--

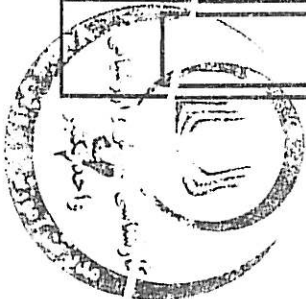
۱	۳۱- به عنوان یک شهروند ایرانی یک مورد از حقوق و یک مورد از تکالیف خود را بنویسید. حقوق: تکالیف:	
---	---	--

۱	۳۲- بنا به توصیه مقام معظم رهبری (مدظله‌العالی) برای حل مشکلات اقتصادی کشور باید سیاست اقتصاد مقاومتی را در پیش بگیریم. منظور از اقتصاد مقاومتی چیست؟ (دو مورد) (۱) (۲)	
---	--	--

۱	۳۳- شما به عنوان یک نوجوان ایرانی در سال ۱۴۰۰ می‌توانید در انتخابات ریاست جمهوری شرکت کنید. شما بعد از انجام تحقیقات لازم و توجه به برنامه‌های ارائه شده نامزدهای انتخاباتی، بهترین گزینه از نظر خودتان را انتخاب نموده و در روز رأی‌گیری به نامزد منتخب خود رأی می‌دهید. شما می‌دانید اگر نامزد منتخب شما اکثریت آرا را نیاورد با احترام به رأی اکثریت مردم ایران، رئیس‌جمهور منتخب را پذیرفته و در بهت آبادی و پیشرفت ایران عزیز در هر جایگاهی که هستید نهایت تلاش خود را می‌کنید. با توجه به متن فوق، یک هنجار و یک ارزش مشخص کنید. هنجار: ارزش:	
---	---	--

۲۰	جمع کل	«موفق باشید»
----	--------	--------------

نمره ی کسبی (بر ۳)	با حروف:	نام و نام خانوادگی مصحح:
با عدد:		امضا:



تاریخ:
محل: